



UNIVERSIDADE FEDERAL DO PARANÁ

PRÓ-REITORIA DE GESTÃO DE PESSOAS

Edital 215/2010 - PROGEPE

Prova Objetiva - 24/10/2010

201 – Assistente em Administração

INSTRUÇÕES

1. Confira, abaixo, o seu número de inscrição, turma e nome. Assine no local indicado.
2. Aguarde autorização para abrir o caderno de prova. Antes de iniciar a resolução das questões, confira a numeração de todas as páginas.
3. Esta prova é constituída de 40 questões objetivas.
4. Nesta prova, as questões objetivas são de múltipla escolha, com 5 alternativas cada uma, sempre na sequência **a, b, c, d, e**, das quais somente uma deve ser assinalada.
5. A interpretação das questões é parte do processo de avaliação, não sendo permitidas perguntas aos aplicadores de prova.
6. Ao receber o cartão-resposta, examine-o e verifique se o nome impresso nele corresponde ao seu. Caso haja qualquer irregularidade, comunique-a imediatamente ao aplicador de prova.
7. O cartão-resposta deverá ser preenchido com caneta esferográfica preta, tendo-se o cuidado de não ultrapassar o limite do espaço para cada marcação.
8. Não serão permitidas consultas, empréstimos e comunicação entre os candidatos, tampouco o uso de livros, apontamentos e equipamentos eletrônicos ou não, inclusive relógio. O não-cumprimento dessas exigências implicará a eliminação do candidato.
9. Os aparelhos celulares deverão ser desligados e colocados OBRIGATORIAMENTE no saco plástico. Caso essa exigência seja descumprida, o candidato será excluído do concurso.
10. O tempo de resolução das questões, incluindo o tempo para preenchimento do cartão-resposta, é de 4 horas.
11. Ao concluir a prova, permaneça em seu lugar e comunique ao aplicador de prova. Aguarde autorização para entregar o caderno de prova, o cartão-resposta e a ficha de identificação.
12. Se desejar, anote as respostas no quadro abaixo, recorte na linha indicada e leve-o consigo.

Português

Matemática

Legislação

Informática

DURAÇÃO DESTA PROVA: 4 horas

INSCRIÇÃO

TURMA

NOME DO CANDIDATO

ASSINATURA DO CANDIDATO

✕

RESPOSTAS							
01 -	06 -	11 -	16 -	21 -	26 -	31 -	36 -
02 -	07 -	12 -	17 -	22 -	27 -	32 -	37 -
03 -	08 -	13 -	18 -	23 -	28 -	33 -	38 -
04 -	09 -	14 -	19 -	24 -	29 -	34 -	39 -
05 -	10 -	15 -	20 -	25 -	30 -	35 -	40 -

PORTUGUÊS

01 - “Muito práticos para as empresas, tendo em vista que os empregadores com frequência baseiam os recrutamentos no nome da universidade em que os candidatos se formaram, os vestibulares permanecem entre os principais critérios para a obtenção de emprego no Japão”.

Nessa proposição, “práticos” é característica dos:

- a) empregadores.
- b) recrutamentos.
- *c) vestibulares.
- d) critérios.
- e) candidatos.

O texto a seguir é referência para as questões 02 e 03.

“Se pararmos para refletir um instante, emprego não qualificado de fato não existe. Apenas se convencionou chamar assim os empregos cuja qualificação não é reconhecida, em razão de que seus saberes, o saber fazer e os comportamentos que exigem são supostamente partilhados por todos. _____, desde o início do século XX, a posse de um nível elementar de leitura e escrita não é mais considerada uma qualificação. O mesmo ocorre com a carteira de motorista ou a utilização de um teclado de computador. Essas qualificações não oferecem, além das condições legais mínimas, nenhuma garantia em matéria de salário, condições de trabalho ou proteção social.”

(Nico Hirt. *Le Monde Diplomatique Brasil*, n. 39, out. 2010, p. 21.)

02 - Assinale a alternativa cuja expressão preenche a lacuna acima de acordo com o desenvolvimento lógico das ideias.

- *a) Desse modo.
- b) Todavia.
- c) Mesmo assim.
- d) Não obstante.
- e) Por outro lado.

03 - De acordo com o texto, é correto inferir que:

- a) o emprego não qualificado deixou de existir a partir do início do século XX.
- b) quanto mais pessoas detêm determinada competência, mais essa competência agrega valor em termos de condições de trabalho, salário e proteção social.
- c) a partir do início do século XX, o mercado sofre com a baixa qualificação pessoal em termos de nível elementar de leitura e escrita.
- d) saber ler e escrever e ter carteira de motorista só passaram a ser reconhecidas como qualificações a partir do início do século XX.
- *e) a qualificação de uma pessoa é inversamente proporcional ao número de pessoas que detêm os mesmos saberes que ela.

04 - Uma forma prática de os vendedores demonstrarem o quanto conhecem sobre aquilo que vendem é incentivá-los a questionar os clientes sobre os custos que eles têm.

Assinale a alternativa que apresenta, corretamente pontuado, o complemento desse texto.

- a) O vendedor por exemplo, pode começar perguntando quanto, a cada ano o cliente costuma gastar em manutenção, com o seu caminhão.
- b) O vendedor, por exemplo pode começar perguntando: quanto a cada ano o cliente costuma gastar em manutenção com o seu caminhão.
- c) O vendedor, por exemplo, pode começar perguntando quanto, a cada ano, o cliente costuma gastar em manutenção com o seu caminhão?
- *d) O vendedor, por exemplo, pode começar perguntando quanto, a cada ano, o cliente costuma gastar em manutenção com o seu caminhão.
- e) O vendedor por exemplo pode começar perguntando: quanto a cada ano, o cliente costuma gastar em manutenção, com o seu caminhão?

05 - A dureza do discurso e a certeza de ser dono da verdade acabam sempre fazendo com que os relacionamentos de algumas pessoas sejam difíceis e, por tabela, sua vida profissional também o seja. O conservadorismo, o medo de correr riscos e de conhecer o novo e a inflexibilidade de atitudes farão de você um profissional ultrapassado em muito pouco tempo.

(Adaptado de: *Você S/A*, set. 2010, p. 120.)

Assinale a alternativa cujo dito popular sintetiza o teor desse texto.

- a) Não se mede a profundidade de um rio com os dois pés.
- *b) Ponte que não balança, cai.
- c) Devagar se vai ao longe.
- d) A pressa é inimiga da perfeição.
- e) Nada como um dia depois do outro.

06 - Leia o texto a seguir:

Que as mulheres são grandes consumidoras, ninguém duvida. Afinal, além de fazer compras para elas próprias, em geral ainda respondem pelo abastecimento da casa, pelo cuidado com os filhos e muitas até escolhem as roupas do marido. A novidade é que agora é possível calcular o tamanho desse mercado. Estudo realizado no primeiro trimestre deste ano pela Sophia Mind, empresa especializada em pesquisar o universo feminino, mostrou que as mulheres são responsáveis pela decisão de compra de dois terços de tudo o que consomem as famílias brasileiras. Para dar uma ideia da crescente importância feminina, basta dizer que no Brasil de hoje 43% das decisões de compra de automóveis são tomadas por mulheres. A participação feminina no consumo das famílias brasileiras deve crescer ainda mais nos próximos anos, em função do aumento da renda das classes mais baixas. Apesar disso tudo, elas ainda se sentem mal atendidas pelas empresas. Nada menos que 89% das entrevistadas estão insatisfeitas com pelo menos um segmento de produto ou serviço.

(Adaptado de Revista *Go!*, jul 2010, p. 146.)

Assinale a alternativa que NÃO está de acordo com as informações veiculadas pelo texto.

- a) As decisões dos homens em relação ao consumo das famílias corresponde a pouco mais de 30%.
- b) A parcela de mulheres que se consideram bem atendidas por empresas de produtos ou serviços é mínima.
- c) O autor considera inquestionável a afirmação de que as mulheres são grandes consumidoras.
- d) A participação feminina nas decisões de aquisição de carros revela a influência feminina em uma área associada tradicionalmente aos homens.
- *e) Segundo a empresa Sophia Mind, as mulheres não estão satisfeitas com sua participação nas decisões de consumo das famílias brasileiras.

O texto a seguir é referência para as questões 07 a 10.**Treino de futebol é futebol**

1 Nenhum jogador gosta de treinar sem bola! Esta foi uma das minhas inúmeras constatações durante os 15 anos de militância
2 na área. Em princípio, pensei se tratar de um sentimento pessoal, uma intuição de estreita relação com a situação em que me
3 encontrava. Também das dificuldades que tinha para arranjar tempo necessário para me dedicar aos treinamentos de campo,
4 diante do fato de ser estudante de medicina ou mesmo arredio aos suores provocados por exaustivas sessões de atividades
5 físicas, muitas vezes incompatíveis com a minha realidade estrutural.

6 Quando fui orientado por Telê Santana, imediatamente percebi uma distância gigantesca de sua filosofia de trabalho com a
7 dos outros treinadores com os quais atuara: a maior parte do tempo que era dedicado ao desenvolvimento dos fundamentos
8 necessários para a melhora de nossas qualidades técnicas o era em contato com a bola. E, principalmente, mimetizando a
9 competição que enfrentaríamos logo a seguir. Ou seja, ele provocava em treinos situações que seriam encontradas nos jogos. [...]

10 Já nos primeiros contatos em campo percebi que ali havia algo diverso do que conhecia até então. Todos os dias, em algum
11 período, enfrentávamos um adversário. Em geral, não os companheiros que ficavam ou ficariam na reserva da equipe, e, sim, um
12 oponente sem compromisso conosco, que não dividia a mesma mesa nem desfrutava da mesma refeição.

13 Era um adversário de verdade querendo mostrar serviço não só ao técnico da Seleção, mas também e principalmente à
14 população brasileira que acompanhava com paixão os treinos do time nacional. Uma verdadeira competição como a de qualquer
15 jogo oficial. Já ali entendi o seu objetivo, mesmo que fosse intuitivo e sensitivo, ou mesmo que fosse exclusivamente técnico. E, na
16 verdade, os resultados físicos se mostravam muito mais rapidamente que os táticos ou os técnicos.

(Sócrates. *Carta Capital* on line, 29 set. 2010. Acesso em 17 out. 2010.)

07 - Com sua filosofia de trabalho, Telê:

- a) desejava agradar os jogadores, para melhorar o desempenho deles.
- b) evitava inimizades entre os atletas titulares e os reservas.
- *c) provocava melhores resultados de desempenho físico e tático.
- d) evitava que os atletas suassem tanto.
- e) reproduzia o que todos os outros técnicos faziam.

08 - Na linha 8, “mimetizando” significa:

- a) evitando.
- *b) imitando.
- c) facilitando.
- d) gravando.
- e) analisando.

09 - Com base no texto, é correto afirmar:

- a) Telê foi o primeiro técnico com quem Sócrates atuou.
- b) Telê não permitia o acesso do público aos treinos.
- c) Os treinos físicos normalmente são feitos com bola, porque todos os jogadores gostam de treinar com bola.
- *d) Os demais técnicos separavam o treino físico do treino tático.
- e) Telê não fazia treinos: discutia as estratégias durante os jogos oficiais.

10 - De acordo com o texto, Sócrates:

- a) não se adaptou à filosofia de trabalho de Telê, porque não tinha tempo de se dedicar aos treinos.
- *b) identificou-se com a filosofia de trabalho de Telê.
- c) discordava da filosofia de trabalho de Telê, que o colocou na reserva da equipe.
- d) preferia treinar sem bola, para não suar tanto.
- e) considerava a filosofia de trabalho de Telê incompatível com a sua realidade estrutural.

MATEMÁTICA

11 - Os números na sequência 7, 11, 15, 19, 23, ... aumentam de quatro em quatro. Os números na sequência 1, 6, 11, 16, 21, ... aumentam de cinco em cinco. Observe que o número 11 aparece em ambas. Continuando as duas sequências, o próximo número que aparecerá em ambas será:

- a) 40.
- b) 39.
- c) 36.
- d) 35.
- *e) 31.

12 - A uma velocidade de 50 km/h, um motorista gasta 4 horas para completar um percurso. A uma velocidade de 80 km/h, o tempo gasto para fazer o mesmo percurso será de:

- a) 2 horas.
- *b) 2,5 horas.
- c) 3 horas.
- d) 3,5 horas.
- e) 4 horas.

13 - Um jardim retangular foi projetado de modo que sua largura possua 7 metros a mais que seu comprimento. Quais as dimensões do jardim, sabendo que sua área é de 18 m^2 ?






- a) Largura 1 m e comprimento 8 m.
- b) Largura 1,5 m e comprimento 8,5 m.
- c) Largura 1,5 m e comprimento 12 m.
- *d) Largura 2 m e comprimento 9 m.
- e) Largura 3 m e comprimento 6 m.

14 - São necessárias 3 horas para que um barco faça uma viagem no mesmo sentido da corrente de um rio. Para fazer a viagem de retorno, o barco navega contra a corrente, gastando 4 horas no trajeto. Se a corrente do rio flui a uma velocidade de 2 km/h, o barco navega a uma velocidade constante na ida, e a uma velocidade constante na volta, a distância percorrida na viagem de ida foi de:

- *a) 48 km.
- b) 50 km.
- c) 52 km.
- d) 60 km.
- e) 72 km.

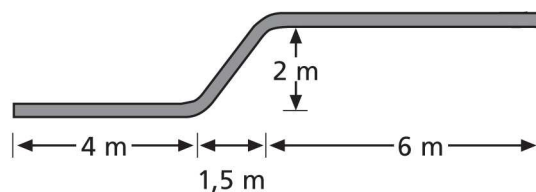
15 - O gráfico ao lado mostra o número de televisores vendidos por uma rede de lojas. A média das vendas nesses quatro anos foi de:

- a) 350 televisores.
- b) 400 televisores.
- *c) 450 televisores.
- d) 500 televisores.
- e) 550 televisores.

Número de Televisores Vendidos	
2006	
2007	
2008	
2009	
 = 100 televisores	

16 - Ao lado temos o esquema de um condutor elétrico de um edifício. De acordo com as medidas, o comprimento total do condutor será:

- a) 11,5 m.
- *b) 12,5 m.
- c) 13 m.
- d) 13,5 m.
- e) 14 m.



17 - Em uma cidade de 30.000 habitantes existem 600 analfabetos. O percentual de analfabetos nessa cidade é de:

- *a) 2%.
- b) 4%.
- c) 8%.
- d) 10%.
- e) 12%.

18 - Uma aplicação de R\$ 75.000,00 produziu juros de R\$ 27.000,00 em três anos. Se o juro é simples, a taxa na qual a aplicação rendeu foi de:

- a) 8% ao ano.
- b) 10% ao ano.
- *c) 12% ao ano.
- d) 15% ao ano.
- e) 20% ao ano.

19 - A dosagem de um antibiótico é de 0,25 gramas para cada 10 kg de peso corporal. Mantendo essa proporção, quantos gramas desse antibiótico devem ser administrados a um paciente de 80 kg que precisa do medicamento?

- a) 1 grama.
- b) 1,2 gramas.
- c) 1,5 gramas.
- *d) 2 gramas.
- e) 2,5 gramas.

20 - Um aquário em forma de bloco retangular mede 70 cm de comprimento por 40 cm de largura por 50 cm de altura. Quantos litros de água cabem nesse aquário?

- a) 60 litros.
- b) 80 litros.
- c) 100 litros.
- d) 120 litros.
- *e) 140 litros.

LEGISLAÇÃO

21 - Tendo por base a Lei 8.112/90, que dispõe sobre o regime jurídico dos servidores públicos civis da União, das autarquias e fundações públicas federais, identifique as afirmativas a seguir como verdadeiras (V) ou falsas (F):

- () Ao servidor é proibido promover manifestação de apreço ou desapeço no recinto da repartição.
- () O servidor público responde administrativamente pelo exercício irregular de suas atribuições, após apuração por meio de processo administrativo disciplinar, podendo também ser responsabilizado civil e penalmente, por que as sanções são independentes entre si.
- () A obrigação de reparar é personalíssima, devendo ser imputada ao servidor causador do dano, extinguindo-se com sua morte.
- () O servidor público responde administrativamente mesmo que criminalmente seja absolvido pelo reconhecimento da inexistência do feito ou de sua autoria.

Assinale a alternativa que apresenta a sequência correta, de cima para baixo.

- a) V – V – V – F.
- *b) V – V – F – F.
- c) V – F – F – V.
- d) F – F – V – F.
- e) F – V – V – V.

22 - O servidor público tem direito a licenças no decorrer de sua vida funcional, em diversas situações. Uma dessas licenças é concedida para a prática de atividade política. Sob proteção da Lei 8.112/90, é correto afirmar:

- a) A licença para atividade política é concedida no período que mediar entre sua escolha em convenção partidária, como candidato a cargo eletivo, e a véspera do registro de sua candidatura perante a Justiça Eleitoral, com direito à remuneração.
- *b) A licença para atividade política é limitada a três meses, assegurados os vencimentos do cargo efetivo, sendo concedida desde o registro da candidatura perante a Justiça Eleitoral até o 10º dia seguinte ao da eleição.
- c) A licença para atividade política é limitada a três meses, assegurados os vencimentos do cargo efetivo, sendo concedida desde o registro da candidatura perante a Justiça Eleitoral até o 30º dia seguinte ao da eleição.
- d) O servidor candidato a cargo eletivo na localidade onde desempenha suas funções e que exerça cargo de direção, chefia, assessoramento, arrecadação ou fiscalização, dele será afastado a partir do dia imediato ao do registro de sua candidatura perante a Justiça Eleitoral, até 90 dias após o pleito.
- e) O servidor candidato a cargo eletivo poderá usufruir da licença para atividade política por seis meses, desde que sem remuneração.

23 - De acordo com a Lei 8.666/93, toda compra feita pela Administração Pública deve ser precedida de licitação, ressalvados os casos especificados na legislação.

João da Silva, servidor público federal, no exercício de suas atribuições, efetivou uma compra dispensando a licitação. Seu procedimento foi correto por se tratar de:

- a) aquisição de material exclusivo, com exclusividade devidamente reconhecida.
- b) aquisição de imóvel.
- *c) aquisição de peça histórica de autenticidade reconhecida e compatível com a finalidade da instituição.
- d) aquisição de hortifrutigranjeiros.
- e) aquisição de bens destinados à pesquisa científica.

24 - Tendo por fundamento a Lei 9.784/99, que regula o processo administrativo no âmbito da Administração Pública Federal, numere a coluna da direita de acordo com sua correspondência com a da esquerda.

- | | |
|------------------|---|
| 1. Anulação. | () Reconhecimento de ilegalidade. |
| 2. Revogação. | () Defeitos sanáveis e sem prejuízo a terceiros. |
| 3. Convalidação. | () Vícios de legalidade. |
| 4. Revisão. | () Mudança por motivo de conveniência. |
| 5. Recurso. | () Reconhecimento de inadequação da sanção aplicada. |

Assinale a alternativa que apresenta a numeração correta da coluna da direita, de cima para baixo.

- a) 1 – 2 – 4 – 3 – 5.
 *b) 5 – 3 – 1 – 2 – 4.
 c) 1 – 4 – 2 – 5 – 3.
 d) 4 – 3 – 1 – 2 – 5.
 e) 5 – 2 – 4 – 3 – 1.

25 - Aprovado em concurso público de provas e títulos, o servidor só adquire estabilidade:

- a) no momento em que toma posse.
 *b) após três anos de efetivo exercício, se aprovado em avaliação de desempenho.
 c) após três meses de estágio probatório, desde que aprovado em avaliação de desempenho.
 d) após dois anos de ininterrupta contribuição sindical.
 e) após dois anos de trabalho efetivo, ao final do qual passa por nova prova.

26 - Apesar da garantia constitucional da estabilidade, o servidor pode perder o cargo em algumas situações. Quanto aos casos em que o servidor pode perder o cargo, identifique as situações a seguir como verdadeiras (V) ou falsas (F):

- () Em virtude de sentença judicial transitada em julgado.
 () Mediante processo administrativo em que lhe seja assegurada ampla defesa.
 () Após condenação criminal transitada em julgado.
 () Quando seu cargo for extinto por lei.

Assinale a alternativa que apresenta a sequência correta, de cima para baixo.

- a) F – V – V – F.
 *b) V – V – F – F.
 c) V – F – F – V.
 d) V – V – V – F.
 e) F – F – V – V.

27 - O concurso público:

- a) tem validade de até um ano, improrrogável.
 b) tem validade de até dois anos, podendo ser prorrogado por mais um ano.
 c) tem validade de até três anos, improrrogáveis.
 *d) tem validade de até dois anos, podendo ser prorrogado uma vez, por igual período.
 e) extingue-se com a posse do candidato aprovado.

28 - Ao entrar em atividade, o servidor ficará sujeito a estágio probatório, durante o qual a sua aptidão e capacidade serão objeto de avaliação para o desempenho do cargo. Assinale a alternativa que apresenta um critério que NÃO é usado para a avaliação de estágio probatório.

- a) assiduidade.
 b) disciplina.
 *c) ideologia política.
 d) responsabilidade.
 e) produtividade.

29 - Com relação ao que o servidor pode receber além dos vencimentos previstos em lei, identifique as retribuições, gratificações e adicionais abaixo como verdadeiros (V) ou falsos (F):

- () Retribuição pelo exercício de função de direção, chefia e assessoramento.
 () Gratificação natalina.
 () Retribuição por serviço prestado a terceiros no horário de trabalho.
 () Adicional pelo exercício de atividades insalubres, perigosas ou penosas.
 () Adicional de férias.

Assinale a alternativa que apresenta a sequência correta, de cima para baixo.

- *a) V – V – F – V – V.
 b) V – F – F – V – F.
 c) F – V – V – F – V.
 d) F – F – F – V – V.
 e) V – V – V – F – F.

30 - Com relação às suas responsabilidades, o servidor responde pelo exercício irregular de suas atribuições:

- a) apenas administrativamente.
- b) apenas civilmente.
- c) apenas civil e administrativamente.
- d) apenas penal e administrativamente.
- *e) civil, penal e administrativamente.

INFORMÁTICA

31 - Preciso salvar um arquivo que possui 3000 KB em um pen drive. Para ser possível realizar a operação, o pen drive deve possuir de espaço livre:

- a) 2 MB.
- b) 4000 B.
- c) 4 KB.
- *d) 3,5 MB.
- e) 3,5 KB.

32 - Para abrir um arquivo produzido pelo Microsoft Excel utilizando o Windows Explorer, basta:

- *a) clicar duas vezes consecutivamente com o botão esquerdo do mouse sobre o arquivo.
- b) clicar duas vezes consecutivamente com o botão direito do mouse sobre o arquivo.
- c) clicar uma vez com o botão direito do mouse sobre o arquivo.
- d) clicar uma vez com o botão esquerdo do mouse sobre o arquivo.
- e) clicar consecutivamente uma vez com o botão direito do mouse e outra com o botão esquerdo do mouse sobre o arquivo.

33 - Ao comprar um notebook, é necessário que ele possua um sistema operacional instalado. Das alternativas abaixo, assinale a mais compatível com um notebook.

- a) Microsoft Word e Microsoft Excel.
- *b) Windows ou Linux.
- c) Microsoft Word.
- d) Internet Explorer.
- e) Microsoft Excel ou BrOffice-Calc.

34 - Com relação ao uso da Internet, considere as seguintes afirmativas:

1. Quando nos referimos a uma rede wireless, estamos nos referindo a uma rede sem fio, que permite o acesso à Internet.
2. Para enviar um e-mail com o resultado de uma pesquisa de opinião criada com um editor de textos, não é necessário digitar o conteúdo da pesquisa no corpo da mensagem, basta anexar o arquivo que possui a pesquisa no e-mail que será enviado.
3. Antes de sair de férias, verifiquei, em um anúncio de jornal, que a Pousada ABC utiliza a Internet para pedidos de reserva de acomodações. Assim sendo, fui para casa e, utilizando o Outlook Express, visitei a página do hotel, na forma `www.host.dominio`, para verificar os preços e, após, utilizando o Internet Explorer, enviei um e-mail, na forma `usuário@host.dominio`, solicitando a reserva.
4. O botão Favoritos, no Internet Explorer, diz respeito à minha lista de e-mail, ou seja, meus contatos.

Assinale a alternativa correta.

- a) Somente a afirmativa 1 é verdadeira.
- b) Somente as afirmativas 1 e 3 são verdadeiras.
- *c) Somente as afirmativas 1 e 2 são verdadeiras.
- d) Somente as afirmativas 2, 3 e 4 são verdadeiras.
- e) As afirmativas 1, 2, 3 e 4 são verdadeiras.

35 - Numere a coluna da direita com base na informação da coluna da esquerda. As informações dizem respeito ao funcionamento de computadores e periféricos.

- | | |
|--------------------------------|---|
| 1. Pen drive. | () Periférico para entrada de dados. |
| 2. Monitor LCD. | () Periférico de entrada e saída de dados. |
| 3. Disco rígido (HD). | () Velocidade de 2.3 GHz. |
| 4. Processador. | () Periférico de saída de dados. |
| 5. Leitor de código de barras. | () Memória de massa. |

Assinale a alternativa que apresenta a sequência correta na coluna da direita, de cima para baixo.

- a) 1 – 2 – 3 – 5 – 4.
- b) 3 – 2 – 4 – 1 – 5.
- c) 5 – 2 – 4 – 3 – 1.
- d) 1 – 5 – 2 – 4 – 3.
- *e) 5 – 1 – 4 – 2 – 3.

36 - As afirmações abaixo dizem respeito ao trabalho com computadores em rede interna.

- () Através do meu notebook, acessei uma rede, com apenas uma impressora compartilhada fazendo parte dela, para imprimir um documento criado pelo Microsoft Word e que está no Disco Local (C:) do meu notebook. Necessariamente, tenho que transferi-lo para um pen drive e utilizar um outro computador da rede para imprimir o documento.
- () O Disco Local (C:) do computador X de uma determinada rede está com a opção Compartilhar ativada. Logo, podemos, a partir de qualquer computador da rede, abrir com o Microsoft Excel uma planilha que está no Disco Local (C:) do computador X.
- () O Disco Local (C:) do computador X de uma determinada rede está com a opção Compartilhar ativada, ou seja, Permissões para C ativada e Controle Total ativada também. Nesse caso, podemos, a partir de qualquer computador da rede, eliminar todos os arquivos .DOC da pasta Meus Documentos do Disco Local (C:) do computador X.
- () Toda impressora disponibilizada para a rede tem que necessariamente estar ligada a um computador da rede.

Assinale a alternativa que apresenta a sequência correta, de cima para baixo.

- a) V – V – V – F.
- b) V – F – F – V.
- c) F – F – V – V.
- d) F – F – F – V.
- *e) F – V – V – F.

37 - Considere a figura abaixo, relativa ao Microsoft Excel.

		E1		fx		=SOMA(B1:D1)*A1	
	A	B	C	D	E	F	
1	100	300	200	500	#####		
2							

O conteúdo da célula E1 é:

- a) 600.
- b) 800.
- c) 1000.
- *d) 100000.
- e) 80000.

38 - Considere a figura da questão 37, relativa ao Microsoft Excel. Que fórmula deverá ser colocada na célula F2 para que seja calculada a soma de TODOS os valores da Linha 1?

- a) =SOMA(A1*E1)
- b) (A1+B1+C1+D1+E1)
- *c) =SOMA(A1:E1)
- d) =(A1:E1)
- e) =SOMA(A1/E1)

39 - Com relação ao aplicativo Microsoft Word, considere a seguintes afirmativas:

1. Para trocar um parágrafo inteiro de lugar dentro de um texto que já foi digitado, basta marcar o parágrafo a ser trocado, clicar no botão recortar, posicionar o cursor no local onde o parágrafo será inserido e clicar no botão colar.
2. Por ser um editor de textos, o Microsoft Word não permite a criação de tabelas.
3. Para realçar uma frase de um texto com negrito, marcamos a frase e digitamos no teclado Ctrl+I e Ctrl+N.
4. Para eliminar uma frase de um texto, basta marcar a frase e digitar no teclado a tecla Ctrl+E.

Assinale a alternativa correta.

- *a) Somente a afirmativa 1 é verdadeira.
- b) Somente as afirmativas 1, 2 e 3 são verdadeiras.
- c) Somente as afirmativas 1 e 2 são verdadeiras.
- d) Somente as afirmativas 2, 3 e 4 são verdadeiras.
- e) As afirmativas 1, 2, 3 e 4 são verdadeiras.

40 - Numere a coluna da direita de acordo com sua correspondência com a coluna da esquerda. As informações dizem respeito aplicativo Microsoft Word.

- | | |
|-----------|--|
| 1. Ctrl+V | () Abre a janela para localizar texto no documento. |
| 2. Ctrl+C | () Recorta a seleção do documento para a área de transferência. |
| 3. Ctrl+X | () Abre a janela para substituir texto no documento. |
| 4. Ctrl+L | () Cola o conteúdo da área de transferência. |
| 5. Ctrl+U | () Copia a seleção e coloca-a na área de transferência. |

Assinale a alternativa que apresenta a numeração correta da coluna da direita, de cima para baixo.

- a) 1 – 2 – 3 – 5 – 4.
- *b) 4 – 3 – 5 – 1 – 2.
- c) 5 – 2 – 4 – 3 – 1.
- d) 4 – 5 – 2 – 1 – 3.
- e) 5 – 3 – 4 – 1 – 2.